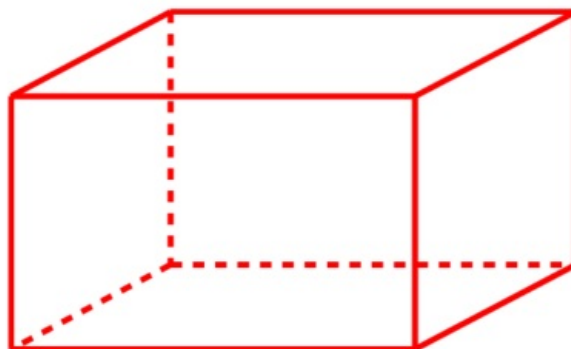
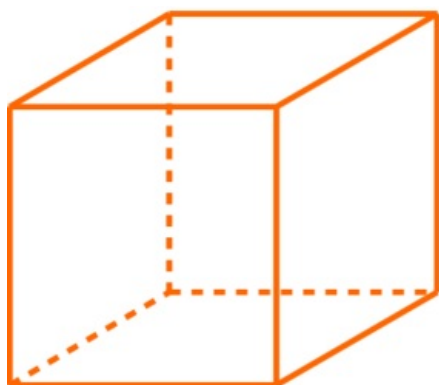


### Fiche



Ces **solides** sont formés de **6 faces**.

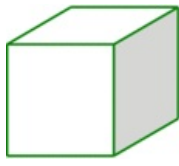

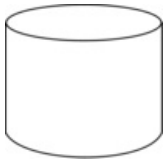
Le **cube** a 6 faces qui sont des **carrés**.

Le **pavé droit** a 6 faces qui sont des **rectangles**.

# Exercices

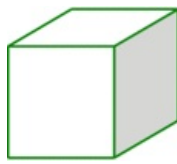
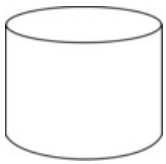
## Exercice 1

Coche le cube.



## Exercice 2

Coche le pavé droit



## Exercice 3

Quel objet est un cube ?



## Exercice 4

Quel objet est un pavé droit ?



### Exercice 5

De quelle couleur est le cube ??




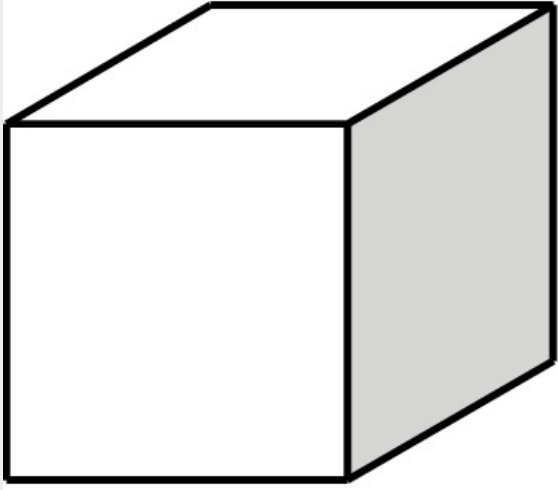

Cochez la bonne réponse.

- Rouge
- Jaune
- Bleu

### Exercice 6

De quelle couleur est le pavé droit ?





Cochez la bonne réponse.

- Bleu
- Rouge
- Blanc

### Exercice 7

Quelle est la forme de ces morceaux de sucre ?



Cochez la bonne réponse.

- Cube
- Pavé droit

### Exercice 8

Quelle est la forme d'une face du cube ?



Cochez la bonne réponse.

- Un carré
- Un rectangle

### Exercice 9

Quelle est la forme d'une face du pavé droit ?



Cochez la bonne réponse.

- Un carré
- Un rectangle

### Exercice 10

Combien de faces y a-t-il sur un cube ?



Cochez la bonne réponse.

- 2
- 4
- 6

## Exercice 11

Combien de faces y a-t-il sur un pavé droit ?



Cochez la bonne réponse.

2

4

6