

Au marché

4

DOMAINE ABORDÉ les mathématiques

OBJECTIF aborder les notions de « plus que », « moins que », « autant que ».

1 Chez le poissonnier




- Montre les poissons qui sont **les plus** nombreux. Colorie-les en bleu.
- Montre les poissons qui sont **les moins** nombreux. Colorie-les en rose.
- Décore avec des traits les deux sortes de poissons où il y en a **autant**.

15

4

Au marché

2 Chez le marchand de légumes



- Dessine les légumes qui manquent pour qu'il y ait **autant** dans chaque case.

3 Chez le marchand de fruits



- Remplis les paniers :
Dans le panier de Claire, il y a **autant** de pommes **que** dans celui de Marie.
Dans le panier de Léa, il y a **plus** de pommes **que** dans celui de Marie.
Dans le panier d'Alice, il y a **moins** de pommes **que** dans celui de Marie.

16

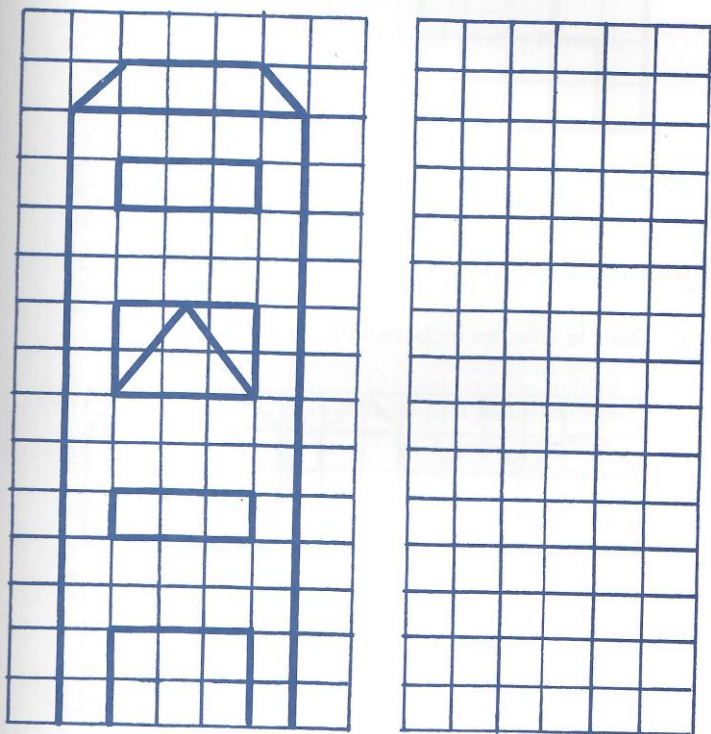
Les maisons

23

DOMAINE ABORDÉ les mathématiques

OBJECTIFS repérage ; reproduction de figures sur un quadrillage

1 La grande tour



 Dessine la même tour sur l'autre quadrillage.

53

Au bord de la route

30

DOMAINE ABORDÉ les mathématiques


OBJECTIFS reconnaître les relations d'ordre ; apprendre la numération ordinale

1 Le rallye automobile



Une course de voitures passe sur la route.

La 1^{re} a une étoile, la 2^e un rond, la 3^e un soleil, la 4^e un carré et la 5^e un triangle.



Dessine sur chaque voiture le signe qui convient.

67